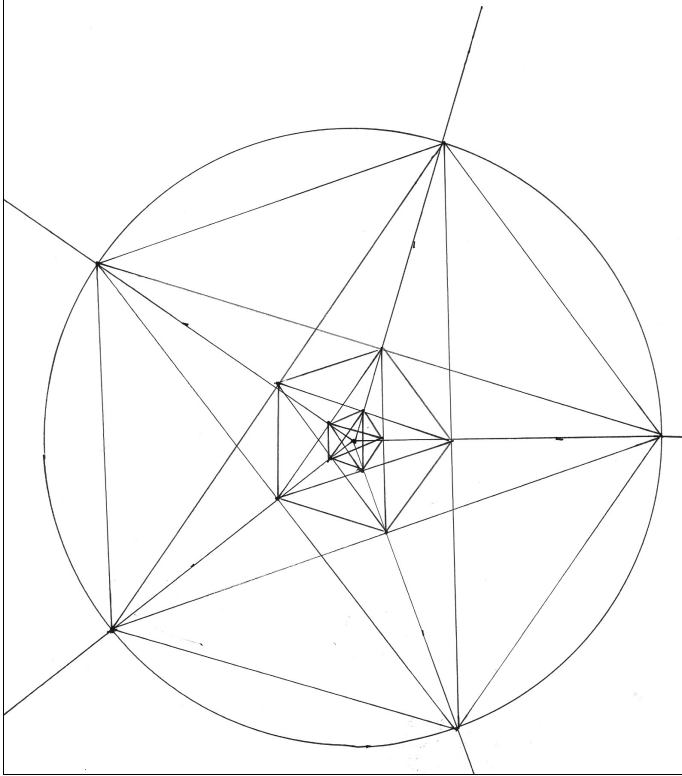
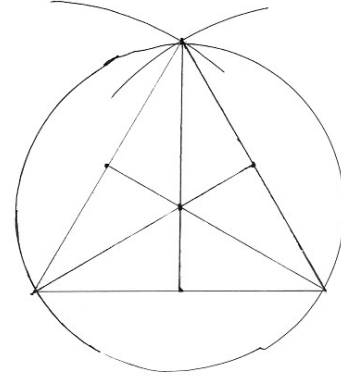


22-3-19. - Pentagones et étoiles - Robin - 10 -



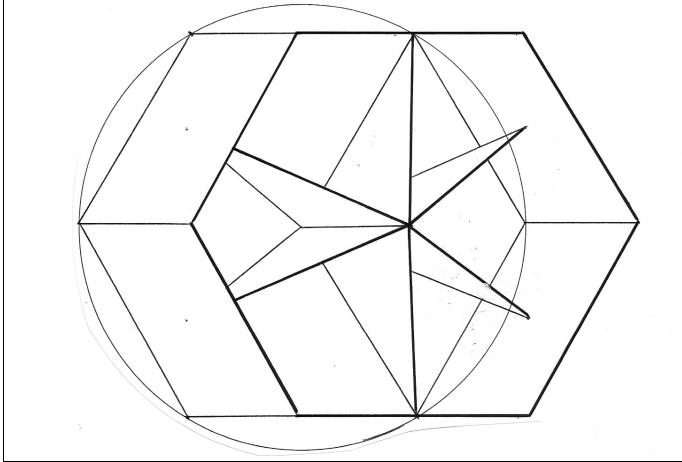
28-3-19. - Tracer un cercle autour d'un triangle -  
- Ilana - 3 -

- 1) Tracer un triangle équilatéral.
- 2) Faire un repère au milieu de chaque côté !
- 3) Tracer les médianes, ça donne le centre.



- 4) Tracer le cercle qui touche les 3 sommets.

15-3-19. - Perspective - Jol - 10 -



28-3-19. - La machine « Fenêtre » d'Elyse - 9 -

Dans notre classe, il y a 3 fenêtres. Et « n » fenêtres?

Grâce :

0	→	0
1	→	3
2	→	6
3	→	9
4	→	12
5	→	15
6	→	18
7	→	21
8	→	24
9	→	27
10	→	30



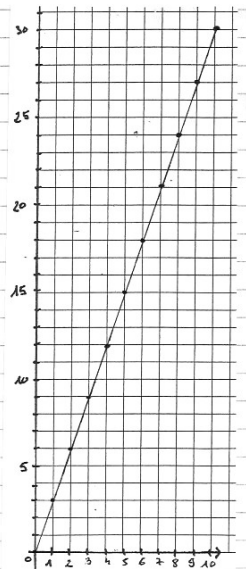
Défin :

76	(F)	→ ?	$76 \times 3 = 228$
138	(F)	→ ?	$138 \times 3 = 414$
694	(F)	→ ?	$694 \times 3 = 2082$
1235	(F)	→ ?	$1235 \times 3 = 3705$
7642	(F)	→ ?	$7642 \times 3 = 22926$

A l'envers :

?	(F)	→ 69	$69 : 3 = 23$
?	(F)	→ 168	$168 : 3 = 56$
?	(F)	→ 261	$261 : 3 = 87$
?	(F)	→ 447	$447 : 3 = 149$
?	(F)	→ 1692	$1692 : 3 = 564$

Représentation graphique :



2-4-19. - Tracer un octogone dans un carré -  
- Hugo - 10 -

